

2011

Zion Glory Church

ፓስተር አስፋው በቀለ

[የመገናኛው  
ድንኳን]

Final exam

ክፍል 1 - የሚከተለውን አረፍተ ነገር ያለው ማን ለማነው? (10 ማርክ)

1. "አልሳቅሁም"

- ሀ. ሎጥ ለመላዕክቱ ሐ. ካም ለኖህ
- ለ. ዮሴፍ ለፈርዖን መ. ሳራ ለእ/ር

2. "አስፈሪነታችሁና አስደንጋጭነታችሁ በምድር አራዊት፣ በሰማይም ወፎች፣ በምድር ላይ በሚንቀሳቀሱትም፣ በባሕር ዓሦችም ሁሉ ላይ ይሁን እነርሱም በእጃችሁ ተሰጥተዋል።"

- ሀ. እግዚአብሔር ለአዳምና ለሄዋን
- ለ. እግዚአብሔር ለኖህ
- ሐ. መልክ ጸዴቅ ለአብርሃም
- መ. እግዚአብሔር ለሰይጣን

3. "እሳቱና እንጨቱ ይኸው አለ የመሥዋዕቱ በግ ግን ወዴት ነው? አለ።" (ዘፍ.22:7)

- ሀ. አቤል ለቃየል
- ለ. ያዕቆብ ለኤሳው
- ሐ. ይስሃቅ ለአብርሃም
- መ. ዮሴፍ ለወንድሞቹ

4. "ይህች አጥንት ከአጥንቴ ናት፣ ሥጋም ከሥጋዬ ናት እርስዋ ከወንድ ተገኝታለችና ሴት ትባል።" ያለው ማን ስለማነው?

- ሀ. አብርሃም ስለ ይስሃቅ ሲናገር
- ለ. ሄዋን ስለበኩሩ ቃየል ስትናገር
- ሐ. አዳም ስለሄዋን ሲናገር
- መ. ሄኖክ ስለማቱሳላ ሲናገር

5. "እርሱም ደኅንነታቸውን ጠየቃቸው፣ እንዲህም አለ፡- የነገራችሁኝ ሽማግሌ አባታችሁ ደኅና ነውን? ገና በሕይወት አለን?" (ዘፍ.23:27)

- ሀ. ዮሴፍ ለወንድሞቹ ስለያዕቆብ
- ለ. ያዕቆብ ለኤሳው ስለይስሃቅ
- ሐ. ላባ ለያዕቆብ ስለአብርሃም
- መ. ሎጥ ለአብርሃም ስለታራ

6. "ከአገርህ ከዘመዶችህም ከአባትህም ቤት ተለይተህ እኔ ወደማሳይህ ምድር ውጣ።"

- ሀ. አብርሃም ለሎጥ
- ለ. እ/ር ለ እስራኤል
- ሐ. እ/ር ለኖህ
- መ. እ/ር ለአብርሃም

7. "ከዚህ ከቀዩ ወጥ አብላኝ፣ እኔ እጅግ ደክሜአለሁና"

- ሀ. ቃየል ለአቤል
- ለ. ምናሴ ለኤፍሬም
- ሐ. ይሁዳ ለዮሴፍ
- መ. ኤሳው ለያዕቆብ

8. "እዩ .....እኔም ድምፄን ከፍ አድርጌ ጮኸሁ ድምፄንም ከፍ አድርጌ እንደ ጮኸሁ ቢሰማ ልብሱን በእኔ ዘንድ ጥሎ ሸሸ ወደ ውጭም ወጣ።"

- ሀ. ትዕማር ስለ ይሁዳ ለእረኞቹ
- ለ. ሳራ ስለ አቤሜሌክ ለአብርሃም
- ሐ. ዲና ስለሴኬም ልጅ ኤሞር ለአባቷ
- መ. የጲጦፋር ሚስት ስለዮሴፍ ለሰራተኞቿ

9. " እኛ ወንድማማች ነንና በእኔና በአንተ በእረኞቼና በእረኞችህ መካከል ጠብ እንዳይሆን እለምንሃለሁ።"

- ሀ. ይስሃቅ ለእስማኤል
- ለ. ያዕቆብ ለኤሳው
- ሐ. አብርሃም ለሎጥ
- መ. ሮቤል ለይሁዳ

10. "ልጄ ከእናንተ ጋር አይወርድም ወንድሙ ሞቶ እርሱ ብቻ ቀርቶአልና በምትሄዱበት መንገድ ምናልባት ክፉ ነገር ቢያገኘው ሽምግልናዬን በጎዘን ወደ መቃብር ታወርዱታላችሁ።"

- ሀ. አጋር ስለ እስማኤል ለይስሃቅ
- ለ. አብርሃም ስለይስሃቅ ለላባን
- ሐ. ያዕቆብ ለሮቤል ስለቢኒያም
- መ. የፈርዖን ሴት ልጅ ስለሙሴ ለፈርዖን

**ክፍል 2 - በየትኛው መጽሐፍ ይህ ታሪክ ተፈጸመ? (10 ማርክ)**

- 11. የጥፋት ውሃ \_\_\_\_\_
- 12. የፍቅር ምዕራፍ \_\_\_\_\_
- 13. ዳዊትና ጎልያድ \_\_\_\_\_
- 14. የጳውሎስ መርከብ መሰበር \_\_\_\_\_
- 15. የደረቁት አጥንቶች \_\_\_\_\_

- 16. 10 ትዕዛዛት \_\_\_\_\_
- 17. የእቶን እሳት \_\_\_\_\_
- 18. ደጉ ሳምራዊ \_\_\_\_\_
- 19. የወርቅ ጥጃ \_\_\_\_\_
- 20. ሩትና ናዖሚ \_\_\_\_\_

**ክፍል 3 - በመገናኛው ድንኳን ላይ የተመረከዙ ጥያቄዎች (10 ማርክ)**

- 21. የማደሪያው ድንኳን የተሰራበት ዋና አላማ ምንድነው?  
\_\_\_\_\_
- 22. የማደሪያው ድንኳን አሰራር እቅድ የተሰጠው ለማን ነው?  
\_\_\_\_\_
- 23. ወርቅ የምን ምሳሌ ነው?  
\_\_\_\_\_
- 24. ብር የምን ምሳሌ ነው?  
\_\_\_\_\_
- 25. ሰማያዊ ቀለም የምን ምሳሌ ነው?  
\_\_\_\_\_

26. ሃምራዊ ቀለም የምን ምሳሌ ነው?

\_\_\_\_\_  
\_\_\_\_\_

\_\_\_\_\_  
\_\_\_\_\_

27. ቀይ የምን ምሳሌ ነው?

\_\_\_\_\_  
\_\_\_\_\_

29. የግራር እንጨት የምን ምሳሌ ነው?

\_\_\_\_\_  
\_\_\_\_\_

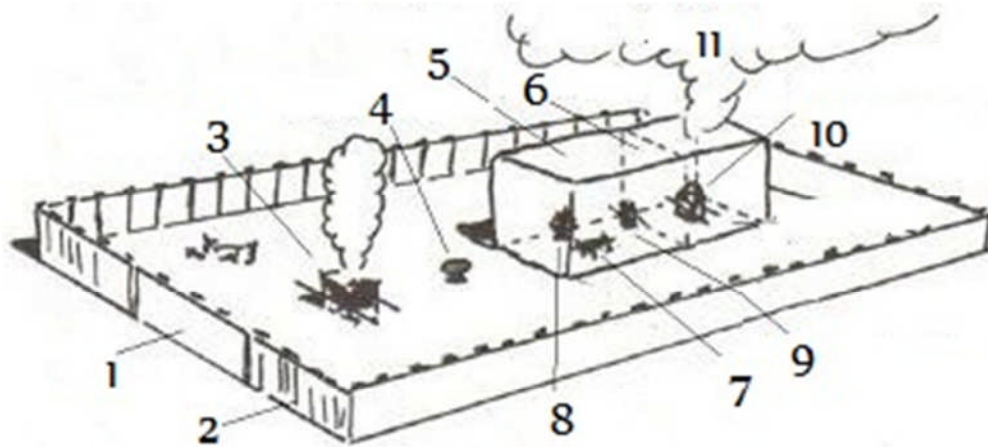
28. የተጣራ ቀጭን የተልባ እግር የምን ምሳሌ ነው?

\_\_\_\_\_  
\_\_\_\_\_

30. ዘይት የምን ምሳሌ ነው?

\_\_\_\_\_  
\_\_\_\_\_

**ክፍል 4 - የሚከተለው ስዕል ቁጥሮች ስም ስጣቸው፤ ቀጥሎ አገልግሎቱን በመጨረሻም መንፈሳዊ ትርጓሜውን ጻፍ። ለምሳሌ ስ ቁጥር መጨረሻ ላይ ተመልሷል።(30 ማርክ)**



- 1. \_\_\_\_\_
- 2. \_\_\_\_\_
- 3. \_\_\_\_\_
- 4. \_\_\_\_\_

- 5. \_\_\_\_\_
- 6. \_\_\_\_\_
- 7. \_\_\_\_\_
- 8. \_\_\_\_\_
- 9. \_\_\_\_\_
- 10. \_\_\_\_\_

11. ደመናው፤ በቀንና በሌሊት እንዲመራቸው፤ መንፈስ ቅዱስ (ምሳሌ)

**ክፍል 5 - የሚከተሉትን ጥያቄዎች መልስ/መልሺ (8 ማርክ)**

1. የጌርሶናውያን፣ የቀኢታውያን የሜራሪ ልጆች አባት ማነው?

- ሀ. አሮን  
ሠ. መልስ የለውም
- ለ. ኢያሱ
- ሐ. ይሁዳ
- መ. ሙሴ

2. የትኞቹ የአሮን ልጆች ናቸው የስጋ ወንድሞቻቸው በእግዚአብሔር ሲቀሰፉ አገልግሎታቸውን ሳያቋርጡ ያገለገሉት?

- ሀ. አላዛርና ኢታምር  
መ. ቀዳሽና ሜራሪ
- ለ. ናዳብና አብዱድ  
ሠ. ጌድሶንና ናዳብ
- ሐ. ጌድሶንና ቀዳሽ

3. ታቦቱን፣ የህብስት ገበታውን፣ መቅረዙን፣ መሰዊያውንና የቅድስትና እቃዎች በጉዞ ላይ መውሰድ የማን ኃላፊነት ነበር? (ዘኁ.3:27-31)

- ሀ. ጌድሶናውያን  
መ. ካህናት
- ለ. ቀኢታውያን  
ሠ. ሁሉም
- ሐ. የሜራሪ ልጆች

4. ሙሴ፣ አሮንና ካህናት በድንኳኑ በየትኛው ሰፈር ይሰፍራሉ?

- ሀ. በሰሜን  
ሠ. በድንኳኑ ውስጥ
- ለ. በምስራቅ
- ሐ. በደቡብ
- መ. በምዕራብ

5. የመገናኛ ድንኳኑ አገልግሎት የበላይ ተቆጣጣሪዎች እነማን ነበሩ?

- ሀ. አሮን                      ለ. ኢያሱ                      ሐ. ሙሴ                      መ. አሮንና ሙሴ
- ሠ. ኢያሱና ሙሴ

6. እስራኤል ከሰፈር ውጪ የሚያደርጉት ምን አይነት ሰዎችን ነበር? (ዘኁ.5:1-4)

- ሀ. ለምጻሞችን                      ለ. የረከሰውን ሐ. በሞተ ሰው የረከሰን ሌዋዊ/ግለሰብ
- መ. ሁሉም መልስ ነው

7. የናዝራውያን መኃላ ምን ነበር? (ዘኁ.6:1-8)

- ሀ. ሬሳ አይነኩም                      ለ. ወይን አይጠጡም ሐ. ጸጉር ይላጩሉ
- መ. ሁሉም መልስ ነው                      ሠ. መልሱ አልተጠቀሰም

8. ከ20 አመት በላይ የሆኑ ሰይፍ መያዝ የሚችሉ ከግብጽ የወጡት ሰልፈኞች ምን ያህል ነበሩ? (ዘኁ.1:45-46)

- ሀ. 3 መቶ ሺህ                      ለ. 6 መቶ ሺህ                      ሐ. 1 ሚሊዮን
- መ. 2 ሚሊዮን                      ሠ. 3 ሚሊዮን

የሚከተሉት ነገዶች በድንኳኑ በየትኛው ወገን ይሰፍራሉ? (4 ማርክ)

9. ዳን፣ አሴርና ንፍታሌም በስተ \_\_\_\_\_

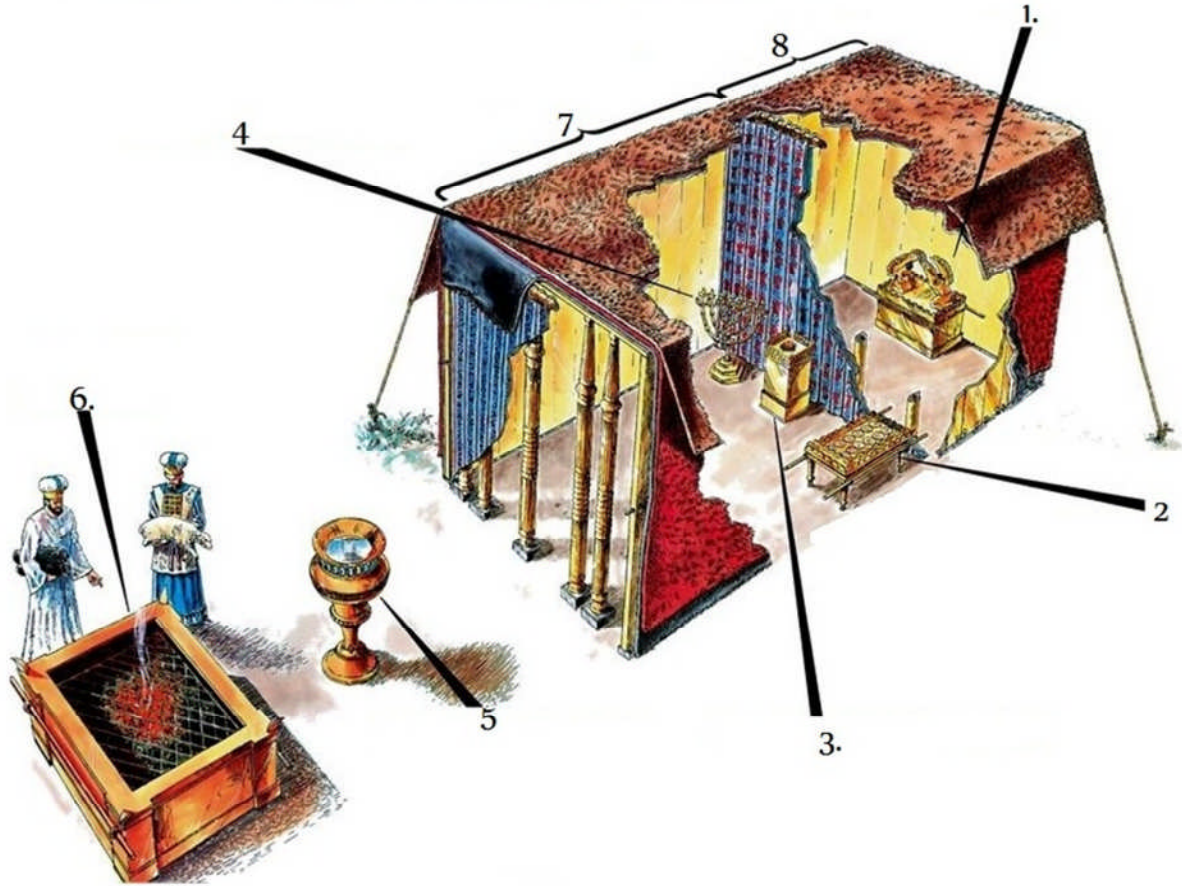
10. ኤፍሬም፣ምናሴና ቢኒያም በስተ \_\_\_\_\_

11. ይሁዳ፣ይሳኮርና ዛብሎን በስተ \_\_\_\_\_

12. ሮቤል፣ ስምዖንና ጋድ በስተ \_\_\_\_\_

ክፍል 6 - በስዕሉ አንጻር መልሱን ጻፍ

(5 ማርክ)



ክፍል 7 - ከላይ ከጻፍካቸው የድንኳኑ አቃዎች/ክፍሎች አንዱን መርጠህ የተማርከውን አብራራ (5 ማርክ)

---

---

---

---

---

---

## የመጨረሻ ፈተና

ክፍል 8 - ወደ ቅድስት መግቢያ መጋረጃ በር ላይ የተሳለው ይህ ስዕሎች የምን ስዕል ነው? የማ-በራሪያ ስጥበት (5 ማርክ)



---

---

---

---

---

---

---

---

---

---

ክፍል 9 ስዕሉን ተመልክተህ የሚከተለውን መልስ (10 ማርክ)

1. በስዕሉ ላይ የምትመለከተው በር የምን በር ተብሎ ይጠራል? \_\_\_\_\_


2. ከፊት ለፊቱስ (በስዕሉ ላይ አይታይም፤ ፎቶው ከተነሳበት አቅጣጫ) ያለው ተራራ ስሙ ማነው?\_

---

3. በሩ እስካሁን ያልተከፈተው ለምንድነው? \_\_\_\_\_

---

---





4. በበኩ አጠገብ መቃብር መሆኑ ለምንድነው? \_\_\_\_\_

\_\_\_\_\_

\_\_\_\_\_

**ክፍል 8 - በዚህ መሰረት ላይ የተጻፉትን ሦስት ቁጥቶች ስም ጻፍ (6 ማርክ)**

- 1. \_\_\_\_\_
- 2. \_\_\_\_\_
- 3. \_\_\_\_\_

